


10. Впишите в таблицу названия аккордов.

10

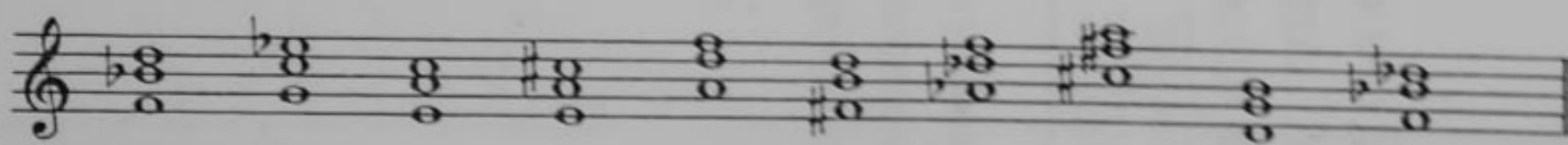
B_6		м.3 + ч.4
M_6		б.3 + ч.4
B_4^6		ч.4 + б.3
M_4^6		ч.4 + м.3

11. Определите вид данных аккордов. Раскрасьте все трезвучия красным цветом, секстаккорды - синим, а квартсекстаккорды - зелёным.

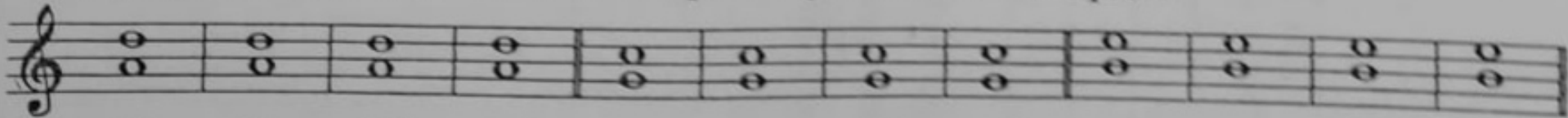


21

13. Мажорные квартсекстаккорды соедините стрелочками, а минорные - подпишите.



14. Чистая кварта входит в состав секстаккордов и квартсекстаккордов. Превратите данные чистые кварты в указанные аккорды.



B_6 M_6 B_4^6 M_4^6 B_6 M_6 B_4^6 M_4^6 B_6 M_6 B_4^6 M_4^6